

Единый государственный экзамен по БИОЛОГИИ**Демонстрационный вариант
контрольных измерительных материалов
единого государственного экзамена 2025 года
по БИОЛОГИИ**

подготовлен федеральным государственным бюджетным
научным учреждением
«ФЕДЕРАЛЬНЫЙ ИНСТИТУТ ПЕДАГОГИЧЕСКИХ ИЗМЕРЕНИЙ»

Единый государственный экзамен по БИОЛОГИИ**Пояснения к демонстрационному варианту контрольных
измерительных материалов единого государственного экзамена
2025 года по БИОЛОГИИ**

При ознакомлении с демонстрационным вариантом контрольных измерительных материалов (КИМ) единого государственного экзамена (ЕГЭ) 2025 г. следует иметь в виду, что задания, включённые в него, не отражают всех элементов содержания, которые будут проверяться с помощью вариантов КИМ в 2025 г. Полный перечень элементов содержания, которые могут контролироваться на едином государственном экзамене 2025 г., приведён в кодификаторе проверяемых требований к результатам освоения основной образовательной программы среднего общего образования и элементов содержания для проведения единого государственного экзамена по биологии.



В демонстрационном варианте представлены конкретные примеры заданий, не исчерпывающие всего многообразия возможных формулировок заданий на каждой позиции варианта экзаменационной работы.

Назначение демонстрационного варианта заключается в том, чтобы дать возможность любому участнику ЕГЭ и широкой общественности составить представление о структуре будущих КИМ, количестве заданий, об их форме и уровне сложности.

В демонстрационном варианте представлено по несколько примеров заданий на некоторых позициях экзаменационной работы. В реальных вариантах экзаменационной работы на каждой позиции будет предложено только одно задание.

Приведённые критерии оценки выполнения заданий с развёрнутым ответом, включённые в этот вариант, дают представление о требованиях к полноте и правильности записи развёрнутого ответа.

Эти сведения позволят выпускникам выработать стратегию подготовки к ЕГЭ в 2025 г.

**Демонстрационный вариант
контрольных измерительных материалов
единого государственного экзамена 2025 года
по БИОЛОГИИ**

Инструкция по выполнению работы

Экзаменационная работа состоит из двух частей, включающих в себя 28 заданий. Часть 1 содержит 21 задание с кратким ответом. Часть 2 содержит 7 заданий с развёрнутым ответом.

На выполнение экзаменационной работы по биологии отводится 3 часа 55 минут (235 минут).

Ответами к заданиям части 1 (1–21) являются последовательность цифр, число или слово (словосочетание). Ответы запишите по приведённым ниже образцам в поле ответа в тексте работы без пробелов, запятых и других дополнительных символов, а затем перенесите в бланк ответов № 1.

КИМ

Ответ: КОМБИНАТИВНАЯ.

К	О	М	Б	И	Н	А	Т	И	В	Н	А	Я
---	---	---	---	---	---	---	---	---	---	---	---	---

Ответ: 31.

3	1
---	---

Ответ:

1	4	6
---	---	---

.

1	4	6
---	---	---

Ответ:

А	Б	В	Г	Д
2	1	1	2	2

.

2	1	1	2	2
---	---	---	---	---

Задания части 2 (22–28) требуют полного ответа (дать объяснение, описание или обоснование; высказать и аргументировать собственное мнение). В бланке ответов № 2 укажите номер задания и запишите его полное решение.

При вычислениях разрешается использовать непрограммируемый калькулятор.

Все бланки ЕГЭ заполняются яркими чёрными чернилами. Допускается использование гелевой или капиллярной ручки.

При выполнении заданий можно пользоваться черновиком. **Записи в черновике, а также в тексте контрольных измерительных материалов не учитываются при оценивании работы.**

Баллы, полученные Вами за выполненные задания, суммируются. Постарайтесь выполнить как можно больше заданий и набрать наибольшее количество баллов.

После завершения работы проверьте, чтобы ответ на каждое задание в бланках ответов № 1 и № 2 был записан под правильным номером.

Желаем успеха!

Часть 1

Ответами к заданиям 1–21 являются последовательность цифр, число или слово (словосочетание). Ответы запишите в поля ответов в тексте работы, а затем перенесите в БЛАНК ОТВЕТОВ № 1 справа от номеров соответствующих заданий, начиная с первой клеточки, без пробелов, запятых и других дополнительных символов. Каждый символ пишите в отдельной клеточке в соответствии с приведёнными в бланке образцами. Единицы измерения величин писать не нужно.

- 1** Рассмотрите таблицу «Признаки живых систем». Запишите в ответе пропущенный термин, обозначенный в таблице вопросительным знаком.

Признак живых систем	Пример
Размножение	Увеличение количества растений картофеля за счёт клубней
?	Появление рогов у взрослого самца оленя

Ответ: _____.

- 2** Испытуемый пробежал 3 километра в быстром темпе. Как после этого изменились объём крови в сосудах скелетных мышц и объём крови в сосудах стенок желудка испытуемого?

Для каждой величины определите соответствующий характер её изменения:

- 1) увеличилась
- 2) уменьшилась
- 3) не изменилась

Запишите в таблицу выбранные цифры для каждой величины. Цифры в ответе могут повторяться.

Объём крови в сосудах скелетных мышц	Объём крови в сосудах стенок желудка

3 На матричной цепи некоторой молекулы ДНК на долю нуклеотидов с аденином приходится 21%. Определите долю нуклеотидов с урацилом на цепи молекулы иРНК, которая была синтезирована с данной ДНК. В ответе запишите только соответствующее число.

Ответ: _____ %.

4 Какова вероятность (%) рождения особей с промежуточным фенотипом в моногибридном скрещивании гетерозиготных родителей при неполном доминировании признака? Ответ запишите в виде числа.

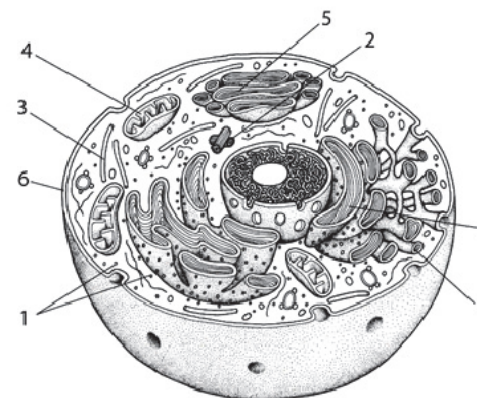
Ответ: _____ %.

ИЛИ

В триплоидной клетке эндосперма ржи содержится 21 хромосома. Сколько хромосом содержит клетка её листа? В ответе запишите только количество хромосом.

Ответ: _____.

Рассмотрите схему и выполните задания 5 и 6.



5 Каким номером на рисунке обозначен аппарат Гольджи?

Ответ: _____.

6 Установите соответствие между характеристиками и структурами, обозначенными на рисунке выше цифрами 1, 2: к каждой позиции, данной в первом столбце, подберите соответствующую позицию из второго столбца.

ХАРАКТЕРИСТИКИ	СТРУКТУРЫ
А) содержит молекулы РНК	1) 1
Б) образована белком тубулином	2) 2
В) состоит из микротрубочек и центросферы	
Г) синтезирует полипептиды	
Д) при митозе формирует веретено деления	
Е) организует цитоскелет	

Запишите в таблицу выбранные цифры под соответствующими буквами.

Ответ:

А	Б	В	Г	Д	Е

7

Выберите три верных ответа и запишите в таблицу цифры, под которыми они указаны. Какие из приведённых понятий относят к изображённой на рисунке структуре?



- 1) водородные связи
- 2) пептидные связи
- 3) нуклеотиды
- 4) аминокислоты
- 5) комплементарность
- 6) дисульфидные мостики

Ответ:

--	--	--

ИЛИ

Выберите три верных ответа и запишите в таблицу цифры, под которыми они указаны.

Какие из перечисленных ниже процессов вызывают комбинативную изменчивость?

- 1) рекомбинация генов в результате кроссинговера
- 2) изменение последовательности нуклеотидов в пределах гена
- 3) случайное сочетание гамет при оплодотворении
- 4) независимое расхождение гомологичных хромосом в мейозе
- 5) перенос участка хромосомы на негомологичную хромосому
- 6) потеря участка хромосомы

Ответ:

--	--	--

8

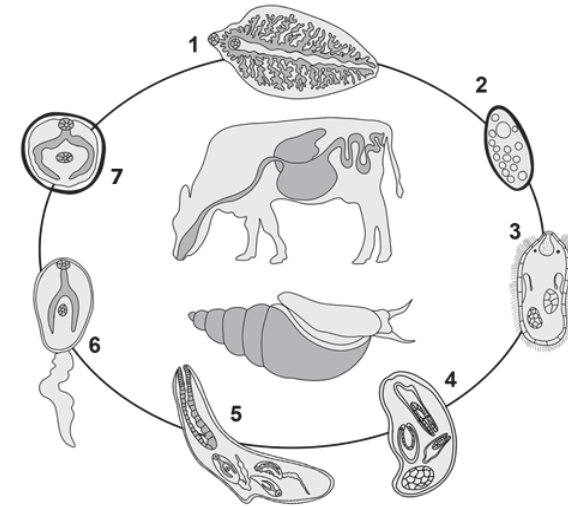
Установите последовательность действий селекционера, использующего индивидуальный отбор для получения сорта устойчивой к полеганию пшеницы. Запишите в таблицу соответствующую последовательность цифр.

- 1) самоопыление растений
- 2) увеличение площадей, занятых под посев опытным сортом
- 3) испытание гомозиготного потомства на урожайность и устойчивость к полеганию
- 4) отбор растений с нужным признаком
- 5) получение гомозиготного потомства

Ответ:

--	--	--	--	--

Рассмотрите рисунок и выполните задания 9 и 10.



9

Каким номером на рисунке обозначена стадия жизненного цикла паразита, на которой он попадает в окончательного хозяина?

Ответ: _____.

10

Установите соответствие между характеристиками и стадиями жизненного цикла паразита, обозначенными на рисунке выше цифрами 1, 2, 3: к каждой позиции, данной в первом столбце, подберите соответствующую позицию из второго столбца.

ХАРАКТЕРИСТИКИ

СТАДИИ ЖИЗНЕННОГО ЦИКЛА ПАРАЗИТА

- А) заражение промежуточного хозяина
 Б) личиночная стадия
 В) оплодотворённая яйцеклетка (яйцо)
 Г) развитие в печени окончательного хозяина
 Д) активно плавает в воде
 Е) имеет гермафродитную половую систему

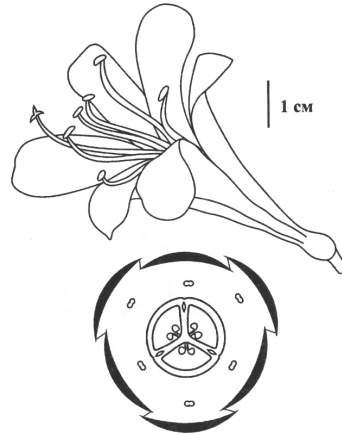
- 1) 1
 2) 2
 3) 3

Запишите в таблицу выбранные цифры под соответствующими буквами.

Ответ:

А	Б	В	Г	Д	Е

11 Выберите три верных ответа и запишите в таблицу цифры, под которыми они указаны. Если растение обладает цветком, изображённым на рисунке, то для этого растения характерны



- 1) наличие одной семядоли в зародыше семени
- 2) наличие спорогона на концах побегов
- 3) внешнее оплодотворение
- 4) мочковатая корневая система
- 5) сетчатое жилкование листьев
- 6) отсутствие камбия в стебле

Ответ:

--	--	--

ИЛИ

Выберите три верных ответа и запишите в таблицу цифры, под которыми они указаны. Какие утверждения о корнях и корневых системах растений являются верными?

- 1) Ткани корня начинают дифференцироваться в зоне деления.
- 2) От стебля могут отходить корни, называемые боковыми.
- 3) Корни не нуждаются в поступлении кислорода извне.
- 4) Для большинства двудольных растений характерна стержневая корневая система.
- 5) Частью корнеплода является видоизмененный корень.
- 6) Корневые волоски – это выросты клеток покровной ткани корня.

Ответ:

--	--	--

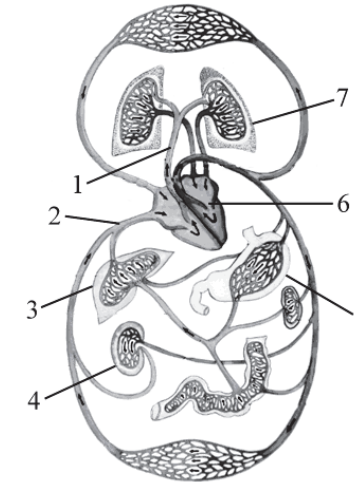
12 Установите последовательность систематических групп организмов, начиная с самого высокого ранга. Запишите в таблицу соответствующую последовательность цифр.

- 1) Покрытосеменные
- 2) Двудольные
- 3) Высшие растения (эмбриофиты)
- 4) Мальвовые
- 5) Кола блестящая
- 6) Кола

Ответ:

--	--	--	--	--	--

Рассмотрите рисунок и выполните задания 13 и 14.



13 Каким номером на рисунке обозначена почка человека?

Ответ: _____

14 Установите соответствие между характеристиками и кругами кровообращения у человека, обозначенными на рисунке выше цифрами 1, 2: к каждой позиции, данной в первом столбце, подберите соответствующую позицию из второго столбца.

ХАРАКТЕРИСТИКИ

КРУГИ КРОВООБРАЩЕНИЯ

- | | |
|-------------------------------------------------------------|------|
| А) По артериям течёт венозная кровь. | 1) 1 |
| Б) Круг заканчивается в левом предсердии. | 2) 2 |
| В) Артериальная кровь в капиллярах превращается в венозную. | |
| Г) Круг начинается в левом желудочке. | |
| Д) Кровь поступает к органам брюшной полости. | |
| Е) Кровь насыщается кислородом. | |

Запишите в таблицу выбранные цифры под соответствующими буквами.

Ответ:

А	Б	В	Г	Д	Е

15 Выберите три верных ответа и запишите в таблицу цифры, под которыми они указаны.

Какие признаки характерны для ткани человека, представленной на рисунке?

- 1) участвует в образовании стенок кровеносных сосудов
- 2) обеспечивает перемещение тела в пространстве
- 3) состоит из веретеновидных клеток
- 4) образована одноядерными клетками
- 5) обладает возбудимостью и сократимостью
- 6) управляется соматическим отделом нервной системы



Ответ:

--	--	--

ИЛИ

Выберите три верных ответа и запишите в таблицу цифры, под которыми они указаны.

Какова роль печени в организме взрослого человека?

- 1) вырабатывает желчь
- 2) выполняет барьерную функцию
- 3) обеспечивает синтез гормона роста (соматотропина)
- 4) вырабатывает пищеварительные ферменты
- 5) синтезирует гликоген
- 6) образует лейкоциты

Ответ:

--	--	--

16 Установите последовательность передачи звукового сигнала в организме человека. Запишите в таблицу соответствующую последовательность цифр.

- 1) слуховая зона коры больших полушарий
- 2) жидкость в улитке
- 3) мембрана овального окна
- 4) волосковые клетки
- 5) слуховые косточки
- 6) преддверно-улитковый нерв

Ответ:

--	--	--	--	--	--

17 Прочитайте текст. Выберите три предложения, в которых даны описания и примеры **рудиментов**. Запишите в таблицу цифры, под которыми они указаны.

(1)В процессе эволюции многие органы теряют свою функцию и поэтому постепенно упрощаются в своём строении и уменьшаются в размерах. (2)В результате возникновения генетических аномалий в фенотипе могут проявиться те признаки, которые несвойственны для вида. (3)У примитивных змей, например питонов, сохраняются остатки пояса брюшных конечностей. (4)У некоторых людей возникает многососковость – явление, при котором появляется несколько пар сосков на теле. (5)При мутации в геноме, у курицы могут закладываться зачатки зубов. (6)Остатки нескольких пальцев в конечностях у лошадей свидетельствуют о происхождении животных от предков с многопальными конечностями.

Ответ:

--	--	--

18 Выберите три верных ответа и запишите в таблицу цифры, под которыми они указаны.
Какие из перечисленных процессов относятся к глобальному круговороту углерода?

- 1) использование карбоната кальция кораллами для построения скелета
- 2) потребление нитратов растениями и микроорганизмами
- 3) фиксация атмосферного азота клубеньковыми бактериями
- 4) протекание реакций темновой фазы фотосинтеза
- 5) выделение аммиака при разложении белков
- 6) спиртовое брожение у микроорганизмов

Ответ:

--	--	--

19 Установите соответствие между примерами и формами эволюционного процесса: к каждой позиции, данной в первом столбце, подберите соответствующую позицию из второго столбца.

ПРИМЕРЫ

ФОРМЫ ЭВОЛЮЦИОННОГО ПРОЦЕССА

- А) глаза кальмара и дельфина
- Б) конечности лошади и лапы кита
- В) развитая эхолокация у летучих мышей и китов
- Г) конечности крота и насекомое медведки
- Д) формы клюва у разных видов галапагосских вьюрков
- Е) форма тела кита и акулы

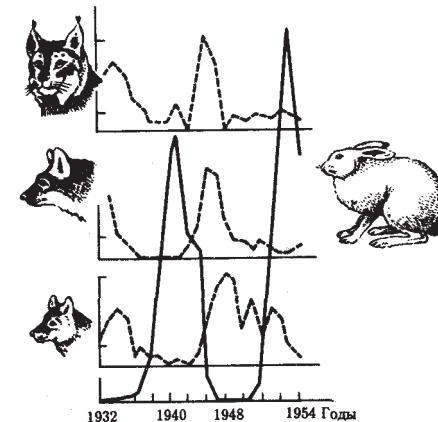
- 1) дивергенция
- 2) конвергенция

Запишите в таблицу выбранные цифры под соответствующими буквами.

Ответ:

А	Б	В	Г	Д

20 Рассмотрите рисунок, иллюстрирующий отношение «хищник – жертва». Заполните пустые ячейки таблицы, используя элементы, приведённые в списке. Для каждой ячейки, обозначенной буквой, выберите соответствующий элемент из предложенного списка.



Фактор эволюции	Характеристика	Результат
_____ (А)	_____ (Б)	_____ (В)

Список элементов:

- 1) изоляция
- 2) дрейф генов (популяционные волны)
- 3) изменение частот аллелей в популяции
- 4) прекращение обмена генетической информацией между популяциями
- 5) вымирание вида
- 6) перенос генов из одной популяции в другую
- 7) мутационный процесс
- 8) закономерные колебания численности популяции под влиянием условий среды

Запишите в таблицу выбранные цифры под соответствующими буквами.

Ответ:

А	Б	В

ИЛИ

Проанализируйте таблицу «Виды естественного отбора». Заполните пустые ячейки таблицы, используя элементы, приведённые в списке. Для каждой ячейки, обозначенной буквой, выберите соответствующий элемент из предложенного списка.

Вид отбора	Характеристика	Пример
_____ (А)	Давлению подвергаются особи со средним значением признака	Образование двух рас погремка с разными сроками цветения на сенокосных лугах
Движущий	_____ (Б)	Постепенное увеличение длины шеи у жирафов в ряду поколений
Стабилизирующий	Давлению подвергаются особи с проявлением признака, отклоняющегося от среднего значения	_____ (В)

Список элементов:

- 1) появление белой крысы в популяции серых крыс
- 2) формирование различных форм клюва у галапагосских вьюрков
- 3) сохранение среднего размера ушной раковины у зайцев
- 4) разрывающий (дизруптивный)
- 5) балансирующий
- 6) давлению подвергаются особи с одним из крайних проявлений признака
- 7) давлению подвергаются самые крупные особи
- 8) под наибольшим давлением оказываются особи с самым выраженным и средним проявлениями признака

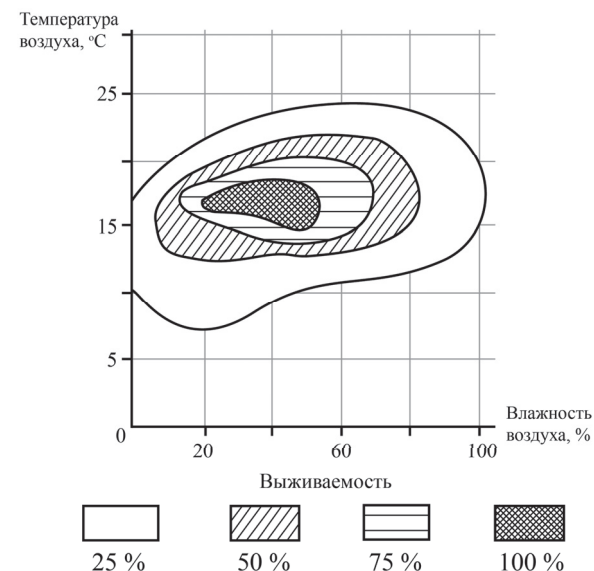
Запишите в таблицу выбранные цифры под соответствующими буквами.

А	Б	В

Ответ:

21

Проанализируйте график «Выживаемость соснового коконопряда в зависимости от совокупного влияния относительной влажности и температуры воздуха».



Выберите утверждения, которые можно сформулировать на основании анализа представленных данных. Запишите в ответе цифры, под которыми указаны выбранные утверждения.

- 1) При температуре 10 °С и влажности 30 % выживаемость соснового коконопряда равна 25 %.
- 2) Сосновый коконопряд способен выживать при любых значениях влажности и температуры.
- 3) При температурных значениях от 8 °С до 23 °С выживаемость соснового коконопряда меняется в зависимости от влажности воздуха.
- 4) При влажности воздуха выше 60 % выживают почти все коконопряды.
- 5) Наиболее благоприятная для соснового коконопряда среда – при влажности 60 % и температуре 10 °С.

Ответ: _____.



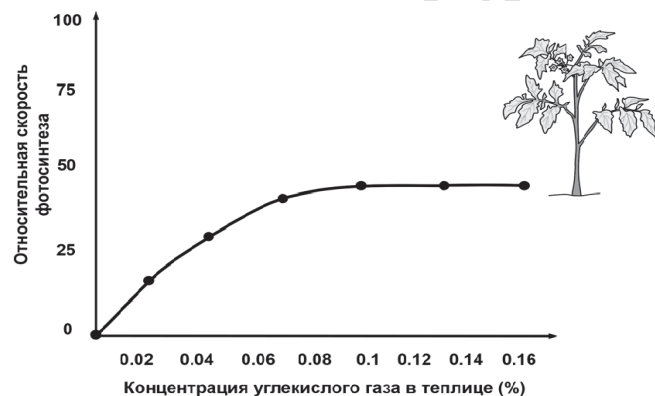
Не забудьте перенести все ответы в бланк ответов № 1 в соответствии с инструкцией по выполнению работы. Проверьте, чтобы каждый ответ был записан в строке с номером соответствующего задания.

Часть 2

Для записи ответов на задания этой части (22–28) используйте **БЛАНК ОТВЕТОВ № 2**. Запишите сначала номер задания (22, 23 и т.д.), а затем развёрнутый ответ на него. Ответы записывайте чётко и разборчиво.

Прочитайте описание эксперимента и выполните задания 22 и 23.

Учёный изучал влияние различных экологических факторов на процесс фотосинтеза. Свой эксперимент исследователь проводил в специальной теплице, где были высажены 300 растений томата сорта Шапка Мономаха. В герметичную теплицу с определённой периодичностью закачивался воздух с различным количеством углекислого газа. С помощью датчиков учёный фиксировал показатели скорости фотосинтеза, которые приведены на графике ниже.



- 22) Какая переменная в этом эксперименте зависимая (изменяющаяся), а какая — независимая (задаваемая)? Объясните, как в данном эксперименте можно поставить отрицательный контроль*. С какой целью необходимо такой контроль ставить?

* Отрицательный контроль — это экспериментальный контроль (опыт), при котором изучаемый объект не подвергается экспериментальному воздействию при сохранении всех остальных условий.

ИЛИ

Сформулируйте нулевую гипотезу* для данного эксперимента. Объясните, почему теплица в эксперименте должна быть строго герметичной. Почему результаты эксперимента могут быть недостоверными, если известно, что в теплице естественное освещение?

* Нулевая гипотеза — принимаемое по умолчанию предположение, что не существует связи между двумя наблюдаемыми событиями, феноменами.

- 23) Почему при увеличении концентрации углекислого газа свыше 0,1 % скорость фотосинтеза не растёт? Как изменится скорость фотосинтеза, если сильно снизить температуру в теплице? Объясните причину изменения. Какую роль играет углекислый газ в процессе фотосинтеза?


24)



1



2



3

Определите расы людей, изображённых на рисунках 1, 2, 3. Рассмотрите рисунок под номером 1. Назовите три признака с разными адаптивными значениями, которые сформировались у представителей данной расы в ходе эволюции. Объясните значение каждого из них.

ИЛИ

На рисунках изображены скелет с отпечатком перьев и реконструкция археоптерикса, обитавшего на Земле 150–147 млн лет назад.



Используя фрагмент «Геохронологической таблицы», определите, в какой эре и каком периоде обитало это животное.

Это животное иногда относят к птицам, но оно имело некоторые признаки, нехарактерные для современных птиц. Перечислите те из них, которые видны на рисунках (не менее трёх признаков). Для организмов какого современного класса характерны перечисленные признаки?

Геохронологическая таблица*

Эра		Период
Название и продолжительность, млн лет	Возраст (начало эры), млн лет	Название и продолжительность, млн лет
Кайнозойская, 66	66	Четвертичный, 2,58
		Неоген, 20,45
		Палеоген, 43
Мезозойская, 186	252	Меловой, 79
		Юрский, 56
		Триасовый, 51
Палеозойская, 289	541	Пермский, 47
		Каменноугольный, 60
		Девонский, 60
		Силурийский, 25
		Ордовикский, 41
		Кембрийский, 56

25 Если сравнить сердца у китообразных и наземных млекопитающих, то окажется, что у многих китов правый желудочек развит существенно лучше левого, тогда как у наземных млекопитающих левый желудочек заметно толще правого. Как можно объяснить данную закономерность? При погружении у китообразных снижается общее потребление кислорода за счёт уменьшения кровоснабжения скелетных мышц. Как при этом изменяется частота сердечных сокращений? За счёт каких адаптаций и процессов в скелетной мускулатуре продолжает вырабатываться АТФ во время погружения?

26 В современной биологии существует концепция гандикапа, согласно которой вредные для выживания признаки, например длинный хвост у павлина, могут демонстрировать качество генома самца. Благодаря какой форме естественного отбора возможно сохранение данного признака? Почему данный признак сохраняется у павлина? Как связано наличие длинного хвоста с качеством генотипа самца?

- 27 Известно, что комплементарные цепи нуклеиновых кислот антипараллельны (5' концу в одной цепи соответствует 3' конец другой цепи). Синтез нуклеиновых кислот начинается с 5' конца. Рибосома движется по иРНК в направлении от 5' к 3' концу. Все виды РНК синтезируются на ДНК-матрице. Фрагмент молекулы ДНК, на которой синтезируется участок центральной петли тРНК, имеет следующую последовательность нуклеотидов (нижняя цепь матричная):

5' - ЦГААГГТГАЦААТГТ - 3'
3' - ГЦТТЦАЦТГТТАЦА - 5'

Установите нуклеотидную последовательность участка тРНК, который синтезируется на данном фрагменте, и определите аминокислоту, которую будет переносить эта тРНК в процессе биосинтеза белка, если третий триплет с 5' конца соответствует антикодону тРНК. Ответ поясните. Для решения задания используйте таблицу генетического кода. При написании нуклеиновых кислот указывайте направление цепи.

Генетический код (иРНК от 5' к 3' концу)

Первое основание	Второе основание				Третье основание
	У	Ц	А	Г	
У	Фен	Сер	Тир	Цис	У
	Фен	Сер	Тир	Цис	Ц
	Лей	Сер	–	–	А
	Лей	Сер	–	Три	Г
Ц	Лей	Про	Гис	Арг	У
	Лей	Про	Гис	Арг	Ц
	Лей	Про	Глн	Арг	А
	Лей	Про	Глн	Арг	Г
А	Иле	Тре	Асн	Сер	У
	Иле	Тре	Асн	Сер	Ц
	Иле	Тре	Лиз	Арг	А
	Мет	Тре	Лиз	Арг	Г
Г	Вал	Ала	Асп	Гли	У
	Вал	Ала	Асп	Гли	Ц
	Вал	Ала	Глу	Гли	А
	Вал	Ала	Глу	Гли	Г

ИЛИ

Для соматической клетки животного характерен диплоидный набор хромосом. Определите хромосомный набор (n) и число молекул ДНК (c) в клетке при гаметогенезе в метафазе II мейоза и анафазе II мейоза. Объясните полученные результаты.

ИЛИ

В популяции растений ночной красавицы (*Mirabilis jalapa*) из 150 особей 6 растений имеют ярко-красную окраску венчика. Рассчитайте частоты аллелей красной и белой окраски в популяции, а также частоты всех возможных генотипов, если известно, что популяция находится в равновесии Харди – Вайнберга. Ответ поясните.

- 28 На X- и Y-хромосомах человека существуют псевдоаутосомные участки, которые содержат аллели одного гена, и между ними может происходить кроссинговер. Один из таких генов вызывает аномалии в развитии кисти. Аллель гена образования перепонки между пальцами (перепончатые пальцы) наследуется голандрически (наследование по гетерогаметному полу). Женщина с нормальным развитием кисти и нормальными пальцами вышла замуж за мужчину с аномалией развития кисти и перепончатыми пальцами, гомозиготная мать которого не имела аномалии в развитии кисти. Родившаяся в этом браке дочь с аномалией развития кисти вышла замуж за мужчину без названных аномалий. Определите генотипы родителей и генотипы, фенотипы, пол возможного потомства. Возможно ли рождение в первом браке ребёнка с нормальным развитием кисти и перепонками между пальцами? Ответ поясните.



Проверьте, чтобы каждый ответ был записан рядом с номером соответствующего задания.

Система оценивания экзаменационной работы по биологии

Правильное выполнение каждого из заданий 1, 3, 4, 5, 9, 13 оценивается 1 баллом. Задание считается выполненным верно, если ответ записан в той форме, которая указана в инструкции по выполнению задания, и полностью совпадает с эталоном ответа.

Правильное выполнение каждого из заданий 2, 6, 10, 14, 19, 20 оценивается 2 баллами. Задание считается выполненным верно, если ответ записан в той форме, которая указана в инструкции по выполнению задания, и полностью совпадает с эталоном ответа: каждый символ в ответе стоит на своём месте, лишние символы в ответе отсутствуют. Выставляется 1 балл, если на любой одной позиции ответа записан не тот символ, который представлен в эталоне ответа. Во всех других случаях выставляется 0 баллов. Если количество символов в ответе больше требуемого, выставляется 0 баллов вне зависимости от того, были ли указаны все необходимые символы.

Правильное выполнение каждого из заданий 7, 11, 15, 17, 18, 21 оценивается 2 баллами. Задание считается выполненным верно, если ответ записан в той форме, которая указана в инструкции по выполнению задания, каждый символ присутствует в ответе, в ответе отсутствуют лишние символы. Порядок записи символов в ответе значения не имеет. Выставляется 1 балл, если только один из символов, указанных в ответе, не соответствует эталону (в том числе есть один лишний символ наряду с остальными верными) или только один символ отсутствует; во всех других случаях выставляется 0 баллов.

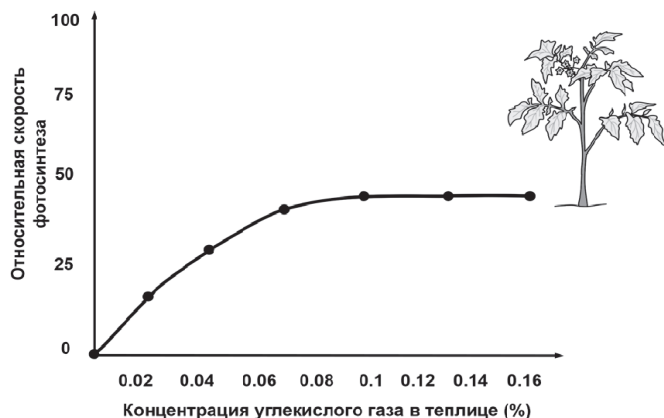
Правильное выполнение каждого из заданий 8, 12, 16 оценивается 2 баллами. Задание считается выполненным верно, если ответ записан в той форме, которая указана в инструкции по выполнению задания, и полностью совпадает с эталоном ответа: каждый символ в ответе стоит на своём месте, лишние символы в ответе отсутствуют. Выставляется 1 балл, если на не более чем двух позициях ответа записаны не те символы, которые представлены в эталоне ответа. Во всех других случаях выставляется 0 баллов. Если количество символов в ответе превышает количество символов в эталоне, то балл за ответ уменьшается на 1, но не может стать меньше 0.

Номер задания	Правильный ответ	
1	изменчивость; развитие; рост	
2	12	
3	21	
4	50 (0,5)	14
5	5	
6	122122	
7	135	134
8	41532	
9	7	
10	332131	
11	146	456
12	312465	
13	4	
14	112221	
15	256	125
16	532461	
17	136	
18	146	
19	212212	
20	283	463
21	13	

Критерии оценивания выполнения заданий с развёрнутым ответом

Прочитайте описание эксперимента и выполните задания 22 и 23.

Учёный изучал влияние различных экологических факторов на процесс фотосинтеза. Свой эксперимент исследователь проводил в специальной теплице, где были высажены 300 растений томата сорта Шапка Мономаха. В герметичную теплицу с определённой периодичностью закачивался воздух с различным количеством углекислого газа. С помощью датчиков учёный фиксировал показатели скорости фотосинтеза, которые приведены на графике ниже.



- 22) Какая переменная в этом эксперименте зависимая (изменяющаяся), а какая – независимая (задаваемая)? Объясните, как в данном эксперименте можно поставить отрицательный контроль*. С какой целью необходимо такой контроль ставить?

* **Отрицательный контроль** – это экспериментальный контроль (опыт), при котором изучаемый объект не подвергается экспериментальному воздействию при сохранении всех остальных условий.

Содержание верного ответа и указания по оцениванию (допускаются иные формулировки ответа, не искажающие его смысла)	Баллы
<p>Элементы ответа:</p> <p>1) зависимая переменная (изменяющаяся в эксперименте) – относительная скорость фотосинтеза; независимая переменная (задаваемая экспериментатором) – концентрация углекислого газа в теплице (<i>должны быть указаны обе переменные</i>);</p> <p>2) растения томата необходимо посадить в теплицу, концентрация углекислого газа в которой искусственно поддерживается постоянной в течение всего эксперимента,</p> <p>ИЛИ</p> <p>2) растения томата необходимо посадить в теплицу с нормальной (стандартной) концентрацией углекислого газа (0,04 %);</p> <p>3) остальные параметры (освещение, влажность и др.) необходимо оставить без изменений;</p> <p>4) данный эксперимент позволяет установить, действительно ли концентрация углекислого газа обеспечивает повышение скорости фотосинтеза в данном эксперименте,</p> <p>ИЛИ</p> <p>4) данный эксперимент позволяет проверить, насколько изменения в скорости фотосинтеза обусловлены факторами, не связанными с повышением концентрации углекислого газа.</p> <p><i>За дополнительную информацию, не имеющую отношения к вопросу задания, баллы не начисляются, но за наличие в ней ошибок снимается 1 балл</i></p>	
Ответ включает в себя все названные выше элементы и не содержит биологических ошибок	3
Ответ включает в себя три из названных выше элементов, которые не содержат биологических ошибок	2
Ответ включает в себя два из названных выше элементов, которые не содержат биологических ошибок	1
Все иные ситуации, не соответствующие правилам выставления 3, 2 и 1 балла	0
<i>Максимальный балл</i>	3

ИЛИ

Сформулируйте нулевую гипотезу* для данного эксперимента. Объясните, почему теплица в эксперименте должна быть строго герметичной. Почему результаты эксперимента могут быть недостоверными, если известно, что в теплице естественное освещение?


* Нулевая гипотеза – принимаемое по умолчанию предположение, что не существует связи между двумя наблюдаемыми событиями, феноменами.

Содержание верного ответа и указания по оцениванию (допускаются иные формулировки ответа, не искажающие его смысла)	Баллы
<p>Элементы ответа:</p> <p>1) нулевая гипотеза – скорость фотосинтеза не зависит от концентрации углекислого газа в атмосфере;</p> <p>2) герметичная теплица обеспечивает постоянный газовый состав воздуха (заданную концентрацию углекислого газа);</p> <p>3) естественное освещение может изменяться</p> <p>ИЛИ</p> <p>3) в опыте естественное освещение не контролируется экспериментатором;</p> <p>4) при изменении освещения скорость фотосинтеза может меняться, что не позволяет в явном виде установить зависимость от концентрации углекислого газа.</p> <p><i>За дополнительную информацию, не имеющую отношения к вопросу задания, баллы не начисляются, но за наличие в ней ошибок снимается 1 балл</i></p>	
Ответ включает в себя все названные выше элементы и не содержит биологических ошибок	3
Ответ включает в себя три из названных выше элементов, которые не содержат биологических ошибок	2
Ответ включает в себя два из названных выше элементов, которые не содержат биологических ошибок	1
Все иные ситуации, не соответствующие правилам выставления 3, 2 и 1 балла	0
<i>Максимальный балл</i>	3

23

Почему при увеличении концентрации углекислого газа свыше 0,1 % скорость фотосинтеза не растёт? Как изменится скорость фотосинтеза, если сильно снизить температуру в теплице? Объясните причину изменения. Какую роль играет углекислый газ в процессе фотосинтеза?

Содержание верного ответа и указания по оцениванию (допускаются иные формулировки ответа, не искажающие его смысла)	Баллы
<p>Элементы ответа:</p> <p>1) скорость фотосинтеза лимитируется другими факторами (освещённостью, скоростью накопления АТФ, количеством ферментов световой и темновой фазы и др.)</p> <p>ИЛИ</p> <p>1) в клетке ограничено количество ферментов (хлоропластов, хлорофилла)</p> <p>ИЛИ</p> <p>1) это результат проявления закона лимитирующего (ограничивающего) фактора;</p> <p>2) скорость фотосинтеза понизится;</p> <p>3) при понижении температуры активность ферментов понизится;</p> <p>4) углекислый газ фиксируется в темновой фазе фотосинтеза (цикле Кальвина) и составляет основу для формирования углеводов</p> <p>ИЛИ</p> <p>4) углекислый газ используется для синтеза глюкозы</p> <p>ИЛИ</p> <p>4) углекислый газ – источник углерода для синтеза органических веществ (глюкозы).</p> <p><i>За дополнительную информацию, не имеющую отношения к вопросу задания, баллы не начисляются, но за наличие в ней ошибок снимается 1 балл</i></p>	
Ответ включает в себя все названные выше элементы, не содержит биологических ошибок	3
Ответ включает в себя три из названных выше элементов, которые не содержат биологических ошибок	2
Ответ включает в себя два из названных выше элементов, которые не содержат биологических ошибок	1
Все иные ситуации, не соответствующие правилам выставления 3, 2 и 1 балла	0
<i>Максимальный балл</i>	3

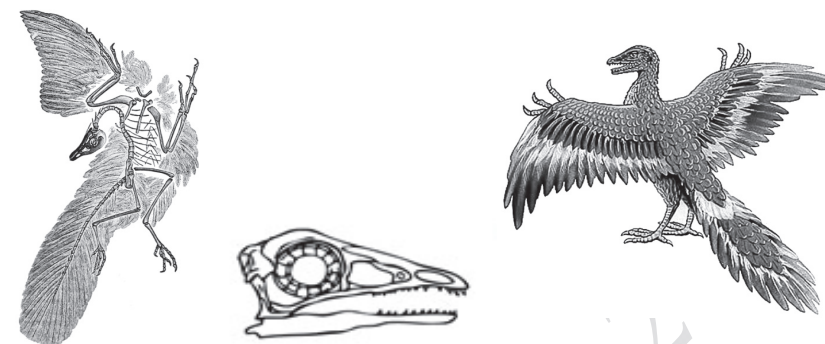


Определите расы людей, изображённых на рисунках 1, 2, 3. Рассмотрите рисунок под номером 1. Назовите три признака с разными адаптивными значениями, которые сформировались у представителей данной расы в ходе эволюции. Объясните значение каждого из них.

Содержание верного ответа и указания к оцениванию (допускаются иные формулировки ответа, не искажающие его смысла)	Баллы
<p>Элементы ответа:</p> <p>1) 1 – экваториальная (негро-австралоидная; негроидная), 2 – монголоидная (азиатско-американская), 3 – европеоидная (евразийская);</p> <p>2) тёмный цвет кожи;</p> <p>3) защита от избыточного воздействия ультрафиолетовых лучей (ожогов);</p> <p>4) курчавые волосы;</p> <p>5) защита головы (головного мозга) от теплового удара (перегрева);</p> <p>6) пухлые губы / широкий нос;</p> <p>7) увеличение площади теплоотдачи (эффективное охлаждение).</p> <p><i>За дополнительную информацию, не имеющую отношения к вопросу задания, баллы не начисляются, но за наличие в ней ошибок снимается 1 балл</i></p>	
<p>Ответ включает в себя все названные выше элементы, не содержит биологических ошибок</p>	3
<p>Ответ включает в себя пять-шесть из названных выше элементов, которые не содержат биологических ошибок.</p> <p>ИЛИ Неверно определена одна раса</p>	2
<p>Ответ включает в себя три-четыре из названных выше элементов, которые не содержат биологических ошибок.</p> <p>ИЛИ Неверно определены две расы</p>	1
<p>Все иные ситуации, не соответствующие правилам выставления 3, 2 и 1 балла.</p> <p>ИЛИ Неверно определены расы</p>	0
<i>Максимальный балл</i>	3

ИЛИ

На рисунках изображены скелет с отпечатком перьев и реконструкция археоптерикса, обитавшего на Земле 150–147 млн лет назад.



Используя фрагмент «Геохронологической таблицы», определите, в какой эре и каком периоде обитало это животное. Это животное иногда относят к птицам, но оно имело некоторые признаки, нехарактерные для современных птиц. Перечислите те из них, которые видны на рисунках (не менее трёх признаков). Для организмов какого современного класса характерны перечисленные признаки?

Геохронологическая таблица*

Эра		Период
Название и продолжительность, млн лет	Возраст (начало эры), млн лет	Название и продолжительность, млн лет
Кайнозойская, 66	66	Четвертичный, 2,58
		Неоген, 20,45
		Палеоген, 43
Мезозойская, 186	252	Меловой, 79
		Юрский, 56
		Триасовый, 51
Палеозойская, 289	541	Пермский, 47
		Каменноугольный, 60
		Девонский, 60
		Силурийский, 25
		Ордовикский, 41
		Кембрийский, 56

Содержание верного ответа и указания по оцениванию (допускаются иные формулировки ответа, не искажающие его смысла)	Баллы
<p>Элементы ответа:</p> <p>1) эра мезозойская, период юрский (<i>должны быть указаны и эра, и период</i>);</p> <p>от современных птиц археоптерикса отличает:</p> <p>2) наличие челюстей с зубами;</p> <p>3) наличие длинного хвоста из несросшихся позвонков;</p> <p>4) наличие развитых пальцев с когтями на передних конечностях;</p> <p>5) признаки характерны для класса Пресмыкающиеся (Рептилии)</p> <p>ИЛИ</p> <p>5) признаки характерны для класса Млекопитающие (Звери).</p> <p><i>За дополнительную информацию, не имеющую отношения к вопросу задания, баллы не начисляются, но за наличие в ней ошибок снимается 1 балл</i></p>	
Ответ включает в себя все названные выше элементы, не содержит биологических ошибок	3
Ответ включает в себя четыре из названных выше элементов, которые не содержат биологических ошибок	2
Ответ включает в себя три из названных выше элементов, которые не содержат биологических ошибок	1
Все иные ситуации, не соответствующие правилам выставления 3, 2 и 1 балла	0
<i>Максимальный балл</i>	3

- 25** Если сравнить сердца у китообразных и наземных млекопитающих, то окажется, что у многих китов правый желудочек развит существенно лучше левого, тогда как у наземных млекопитающих левый желудочек заметно толще правого. Как можно объяснить данную закономерность? При погружении у китообразных снижается общее потребление кислорода за счёт уменьшения кровоснабжения скелетных мышц. Как при этом изменяется частота сердечных сокращений? За счёт каких адаптаций и процессов в скелетной мускулатуре продолжает вырабатываться АТФ во время погружения?

Содержание верного ответа и указания по оцениванию (допускаются иные формулировки ответа не искажающие смысла)	Баллы
<p>Элементы ответа:</p> <p>1) у китов лучше развита капиллярная система лёгких (больше лёгкие)</p> <p>ИЛИ</p> <p>1) разветвлённая капиллярная сеть лёгких обеспечивает сильное сопротивление току крови</p> <p>ИЛИ</p> <p>1) вода сильнее воздуха сжимает лёгкие грудной клетки китообразных;</p> <p>2) увеличенная стенка правого желудочка позволяет развивать достаточное для газообмена давление в сосудах;</p> <p>3) при нырянии у китообразных снижается частота сердечных сокращений;</p> <p>4) в скелетных мышцах имеется запас кислорода, связанный с миоглобином;</p> <p>5) в скелетных мышцах происходит выработка АТФ за счёт аэробных процессов (клеточного дыхания);</p> <p>6) в скелетных мышцах происходит выработка АТФ за счёт молочнокислого брожения (анаэробных процессов, гликолиза).</p> <p><i>За дополнительную информацию, не имеющую отношения к вопросу задания, баллы не начисляются, но за наличие в ней ошибок снимается 1 балл</i></p>	
Ответ включает в себя пять-шесть названных выше элементов и не содержит биологических ошибок	3
Ответ включает в себя три-четыре из названных выше элементов, которые не содержат биологических ошибок	2
Ответ включает в себя два из названных выше элементов, которые не содержат биологических ошибок	1
Все иные ситуации, не соответствующие правилам выставления 3, 2 и 1 балла	0
<i>Максимальный балл</i>	3

- 26 В современной биологии существует концепция гандикапа, согласно которой вредные для выживания признаки, например длинный хвост у павлина, могут демонстрировать качество генома самца. Благодаря какой форме естественного отбора возможно сохранение данного признака? Почему данный признак сохраняется у павлина? Как связано наличие длинного хвоста с качеством генотипа самца?

Содержание верного ответа и указания по оцениванию (допускаются иные формулировки ответа, не искажающие его смысла)	Баллы
<p>Элементы ответа:</p> <p>1) половой отбор;</p> <p>2) наличие длинного хвоста повышает вероятность спаривания для самца (павлина с длинным хвостом чаще выбирают самки);</p> <p>3) длинный хвост – признак высокого качества генотипа самца;</p> <p>4) при наличии длинного хвоста самцу необходимо обладать признаками, повышающими его жизнеспособность (быстрое обнаружение хищника, умение скрываться, быстрая реакция и др.).</p> <p><i>За дополнительную информацию, не имеющую отношения к вопросу задания, баллы не начисляются, но за наличие в ней ошибок снимается 1 балл</i></p>	
Ответ включает в себя все названные выше элементы и не содержит биологических ошибок	3
Ответ включает в себя два-три из названных выше элементов, которые не содержат биологических ошибок	2
Ответ включает в себя один из названных выше элементов, которые не содержат биологических ошибок	1
Все иные ситуации, не соответствующие правилам выставления 3, 2 и 1 балла	0
<i>Максимальный балл</i>	3

- 27 Известно, что комплементарные цепи нуклеиновых кислот антипараллельны (5' концу в одной цепи соответствует 3' конец другой цепи). Синтез нуклеиновых кислот начинается с 5' конца. Рибосома движется по иРНК в направлении от 5' к 3' концу. Все виды РНК синтезируются на ДНК-матрице. Фрагмент молекулы ДНК, на которой синтезируется участок центральной петли тРНК, имеет следующую последовательность нуклеотидов (нижняя цепь матричная):

5' - ЦГААГГТГАЦААТГТ - 3'
3' - ГЦТТЦАЦТГТТАЦА - 5'

Установите нуклеотидную последовательность участка тРНК, который синтезируется на данном фрагменте, и определите аминокислоту, которую будет переносить эта тРНК в процессе биосинтеза белка, если третий триплет с 5' конца соответствует антикодону тРНК. Ответ поясните. Для решения задания используйте таблицу генетического кода. При написании нуклеиновых кислот указывайте направление цепи.

Генетический код (иРНК от 5' к 3' концу)

Первое основание	Второе основание				Третье основание
	У	Ц	А	Г	
У	Фен	Сер	Тир	Цис	У
	Фен	Сер	Тир	Цис	Ц
	Лей	Сер	–	–	А
	Лей	Сер	–	Три	Г
Ц	Лей	Про	Гис	Арг	У
	Лей	Про	Гис	Арг	Ц
	Лей	Про	Глн	Арг	А
	Лей	Про	Глн	Арг	Г
А	Иле	Тре	Асн	Сер	У
	Иле	Тре	Асн	Сер	Ц
	Иле	Тре	Лиз	Арг	А
	Мет	Тре	Лиз	Арг	Г
Г	Вал	Ала	Асп	Гли	У
	Вал	Ала	Асп	Гли	Ц
	Вал	Ала	Глу	Гли	А
	Вал	Ала	Глу	Гли	Г

Содержание верного ответа и указания к оцениванию (правильный ответ должен содержать следующие позиции)	Баллы
Схема решения задачи включает: 1) нуклеотидная последовательность участка тРНК: 5'-ЦГААГГУГАЦААУГУ-3'; 2) нуклеотидная последовательность антикодона 5'-УГА-3' (УГА) (третий триплет) соответствует кодону на иРНК: 5'-УЦА-3' (УЦА); 3) по таблице генетического кода этому кодону соответствует аминокислота Сер (серин), которую переносит данная тРНК	
Ответ включает в себя все названные выше элементы, не содержит биологических ошибок	3
Ответ включает в себя два из названных выше элементов, которые не содержат биологических ошибок	2
Ответ включает в себя один из названных выше элементов, который не содержит биологических ошибок	1
Ответ неправильный	0
<i>Максимальный балл</i>	<i>3</i>

ИЛИ

Для соматической клетки животного характерен диплоидный набор хромосом. Определите хромосомный набор (n) и число молекул ДНК (c) в клетке при гаметогенезе в метафазе II мейоза и анафазе II мейоза. Объясните полученные результаты.

Содержание верного ответа и указания по оцениванию (правильный ответ должен содержать следующие позиции)	Баллы
Схема решения задачи включает: 1) в метафазе II мейоза набор хромосом – n ; 2) число молекул ДНК – $2c$; 3) в анафазе II мейоза набор хромосом – $2n$; 4) число молекул ДНК – $2c$; 5) в метафазе II мейоза после редукционного деления (мейоза I), клетки гаплоидные, хромосомы двуххроматидные; 6) в анафазе II мейоза к полюсам расходятся сестринские хроматиды (хромосомы), поэтому число хромосом равно числу молекул ДНК. <i>За дополнительную информацию, не имеющую отношения к вопросу задания, баллы не начисляются, но за наличие в ней ошибок снимается 1 балл</i>	
Ответ включает в себя все названные выше элементы, не содержит биологических ошибок	3
Ответ включает в себя пять из названных выше элементов, которые не содержат биологических ошибок	2
Ответ включает в себя четыре из названных выше элементов, которые не содержат биологических ошибок	1
Все иные ситуации, не соответствующие правилам выставления 3, 2 и 1 балла	0
<i>Максимальный балл</i>	<i>3</i>

ИЛИ

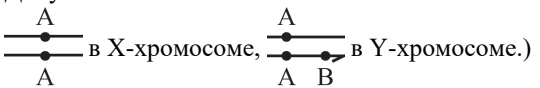
В популяции растений ночной красавицы (*Mirabilis jalapa*) из 150 особей 6 растений имеют ярко-красную окраску венчика. Рассчитайте частоты аллелей красной и белой окраски в популяции, а также частоты всех возможных генотипов, если известно, что популяция находится в равновесии Харди – Вайнберга. Ответ поясните.

Содержание верного ответа и указания по оцениванию (правильный ответ должен содержать следующие позиции)	Баллы
<p>Схема решения задачи включает следующие элементы:</p> <p>1) частота растений с ярко-красной окраской венчика составляет: $6/150 = 0,04$;</p> <p>2) красную окраску имеют растения с генотипом AA, в равновесной популяции доля таких растений составляет p^2;</p> <p>3) частота аллеля p в популяции составляет $0,2$;</p> <p>4) частота аллеля q в популяции составляет: $1 - p = 0,8$;</p> <p>5) частота генотипа Aa (розовая окраска) в равновесной популяции составляет $2pq = 0,32$;</p> <p>6) частота генотипа aa (белая окраска) в равновесной популяции: $q^2 = 0,64$.</p> <p><i>За дополнительную информацию, не имеющую отношения к вопросу задания, баллы не начисляются, но за наличие в ней ошибок снимается 1 балл</i></p>	
Ответ включает в себя все названные выше элементы, не содержит биологических ошибок	3
Ответ включает в себя пять из названных выше элементов, которые не содержат биологических ошибок	2
Ответ включает в себя четыре из названных выше элементов, которые не содержат биологических ошибок	1
Все иные ситуации, не соответствующие правилам выставления 3, 2 и 1 балла	0
<i>Максимальный балл</i>	3

28

На X- и Y-хромосомах человека существуют псевдоаутосомные участки, которые содержат аллели одного гена, и между ними может происходить кроссинговер. Один из таких генов вызывает аномалии в развитии кисти. Аллель гена образования перепонки между пальцами (перепончатые пальцы) наследуется голандрически (наследование по гетерогаметному полу). Женщина с нормальным развитием кисти и нормальными пальцами вышла замуж за мужчину с аномалией развития кисти и перепончатыми пальцами, гомозиготная мать которого не имела аномалии в развитии кисти. Родившаяся в этом браке дочь с аномалией развития кисти вышла замуж за мужчину без названных аномалий. Определите генотипы родителей и генотипы, фенотипы, пол возможного потомства. Возможно ли рождение в первом браке ребёнка с нормальным развитием кисти и перепонками между пальцами? Ответ поясните.

Содержание верного ответа и указания по оцениванию (правильный ответ должен содержать следующие позиции)	Баллы
<p>Схема решения задачи включает:</p> <p>1) $P \begin{matrix} \text{♀} & X^a X^a \\ & \times \\ \text{♂} & X^a Y^{Ab} \end{matrix}$ $G \begin{matrix} X^a \\ X^a, X^A, Y^{Ab}, Y^{ab} \end{matrix}$ F_1</p> <p>генотипы, фенотипы возможных дочерей: $X^a X^a$ – нормальное развитие кисти, нормальные пальцы; $X^A X^a$ – аномалия развития кисти, нормальные пальцы;</p> <p>генотипы, фенотипы возможных сыновей: $X^a Y^{Ab}$ – аномалия развития кисти, перепончатые пальцы; $X^A Y^{ab}$ – нормальное развитие кисти, перепончатые пальцы;</p> <p>2) $\begin{matrix} \text{♀} & X^A X^a \\ & \times \\ \text{♂} & X^a Y^a \end{matrix}$ $G \begin{matrix} X^A, X^a \\ X^a, Y^a \end{matrix}$ F_2</p> <p>генотипы, фенотипы возможных дочерей: $X^A X^a$ – аномалия развития кисти, нормальные пальцы; $X^a X^a$ – нормальное развитие кисти, нормальные пальцы;</p> <p>генотипы, фенотипы возможных сыновей: $X^A Y^a$ – аномалия развития кисти, нормальные пальцы; $X^a Y^a$ – нормальное развитие кисти, нормальные пальцы;</p> <p>3) в первом браке возможно рождение сына с нормальным развитием кисти и перепончатыми пальцами ($X^a Y^{ab}$). В генотипе этого ребёнка находится материнская X^a-хромосома и кроссоверная отцовская Y^{ab}-хромосома.</p> <p>(Допускается иная генетическая символика обозначения гена, который наследуется голандрически: Y^B, Y', а также обозначение Y^B и Y^b альтернативных аллелей в Y-хромосоме.</p>	

Допускается иная генетическая символика изображения генов:  (..... в X-хромосоме, в Y-хромосоме.) Элементы 1 и 2 засчитываются только при наличии и генотипов, и фенотипов, и пола всех возможных потомков. Ответ «здоров» или «норма» считать верным	
Ответ включает в себя все названные выше элементы и не содержит биологических ошибок	3
Ответ включает в себя два из названных выше элементов, которые не содержат биологических ошибок	2
Ответ включает в себя один из названных выше элементов, который не содержит биологических ошибок	1
Ответ неправильный	0
<i>Максимальный балл</i>	3

В соответствии с Порядком проведения государственной итоговой аттестации по образовательным программам среднего общего образования (приказ Минпросвещения России и Рособрназора от 04.04.2023 № 233/552, зарегистрирован Минюстом России 15.05.2023 № 73314)

«81. Проверка экзаменационных работ включает в себя:

1) проверку и оценивание предметными комиссиями ответов на задания КИМ для проведения ЕГЭ с развёрнутым ответом <...>, в том числе устных ответов, в соответствии с критериями оценивания по соответствующему учебному предмету, разработка которых организуется Рособрназором¹. <...>

По результатам первой и второй проверок эксперты независимо друг от друга выставляют первичные баллы за каждый ответ на задания КИМ для проведения ЕГЭ с развёрнутым ответом. <...>

В случае существенного расхождения в первичных баллах, выставленных двумя экспертами, назначается третья проверка. Существенное расхождение в первичных баллах определено в критериях оценивания по соответствующему учебному предмету, разработка которых организуется Рособрназором.

Эксперту, осуществляющему третью проверку, предоставляется информация о первичных баллах, выставленных экспертами, ранее проверявшими экзаменационную работу».

Существенными считаются следующие расхождения.

1. Расхождение между баллами, выставленными двумя экспертами за выполнение любого из заданий 22–28, составляет 2 или более балла. В этом случае третий эксперт проверяет только те ответы на задания, которые вызвали столь существенное расхождение.

2. Расхождение между суммами баллов, выставленных двумя экспертами за выполнение всех заданий 22–28, составляет 4 или более балла. В этом случае третий эксперт проверяет ответы на все задания 22–28.

3. Расхождение в результатах оценивания двумя экспертами ответа на одно из заданий 22–28 заключается в том, что один эксперт указал на отсутствие ответа на задание в экзаменационной работе, а другой эксперт выставил за выполнение этого задания ненулевой балл. В этом случае третий эксперт проверяет только ответы на задания, которые были оценены со столь существенным расхождением.

4. Ситуации, в которых один эксперт указал на отсутствие ответа в экзаменационной работе, а второй эксперт выставил нулевой балл за выполнение этого задания, не являются ситуациями существенного расхождения в оценивании.

¹ Часть 14 статьи 59 Федерального закона от 29.12.2012 № 273-ФЗ «Об образовании в Российской Федерации».